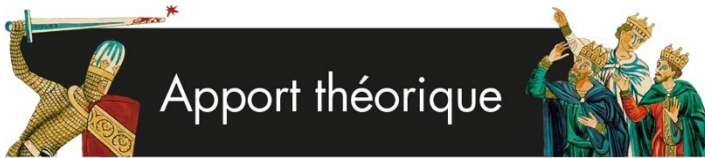




Le château, symbole de puissance ?



Apport théorique

Depuis le IX^e siècle, le droit de fortification est réservé à l'empereur. D'un point de vue juridique, au XIII^e siècle, un château est un édifice fortifié, entouré par un fossé suffisamment profond pour empêcher un ouvrier de rejeter la terre avec sa pelle ; ayant plus de deux étages (avec un sous-sol, et un parapet ou crénelage au sommet) et dont la cour est entourée par un mur hors d'atteinte d'un cavalier. Edifice militaire, un château remplit également d'autres fonctions puisqu'il permet de contrôler un territoire et sert de résidence pour une famille noble ou bien pour la garnison qui garde le château en son nom. Enfin et surtout, le château joue un rôle symbolique essentiel : il est la preuve de la puissance et de la richesse de ceux qui l'ont fait construire et matérialise le pouvoir qu'ils détiennent sur la population alentour qui, en échange de leur protection, leur remet une part de ses revenus. De ce fait, le château est aussi un centre économique, vers lequel converge la production agricole d'une région.

Étude de cas : les châteaux d'Ottrott

A partir des X^e et XI^e siècles, c'est en raison des rivalités et querelles entre seigneurs voisins, qu'apparaissent les résidences fortifiées. Les châteaux d'Ottrott, le Rathsamhausen et le Lutzelbourg, en sont un parfait exemple. Ils sont construits sur le plateau de l'Elsberg et sont distants d'environ 50 mètres. En 1076, les comtes d'Eguisheim font édifier le château de Rathsamhausen, mais ce premier château est détruit par les Hohenstaufen au début du XII^e siècle.

Devenus empereurs, les Hohenstaufen font reconstruire la forteresse afin de protéger l'abbaye du Mont-Saint-Odile. Le château est confié en 1196 à Conrad de Lutzelbourg, membre d'une famille d'alliés chargé de les représenter et de défendre leurs droits.

Deux ans plus tard, le château est incendié par les partisans de la famille Eguisheim-Dabo. Otton de Bourgogne (le fils de l'Empereur Frédéric Barberousse de Hohenstaufen) décide de reprendre en main la région et le fait réédifier entre 1220-1230. En 1250, alors que les Hohenstaufen font face à une crise importante et voient leur pouvoir remis en cause, le château du Lutzelbourg est construit par leurs adversaires. Chacun des deux châteaux est protégé par un fossé sec et une enceinte de défense.

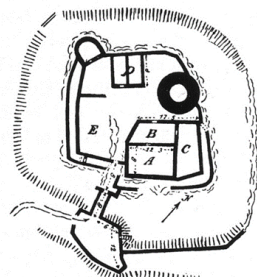
*_*_*



- * Il est conseillé de réaliser les fiches 4 et 5 ensemble. La fiche 4 propose d'aborder le château dans son fonctionnement et son symbolisme, tandis que la fiche 5 permet d'étudier la situation des châteaux à l'échelle de l'Alsace.
- * Compréhension : se repérer entre différents documents
- * Synthèse : reformuler et rédiger une synthèse



Travail sur documents




11

PIPER, Otto,
le château de Rathsamhausen



12

Maquette du
Rathsamhausen






13

NAEHER, Julius,
Les châteaux de Lutzelbourg et
de Rathsamhausen

Je croise les informations

Complétez les cases placées sur les photos de la maquette du Rathsamhausen (document n°12) en vous aidant du croquis du château par Otto Piper (document n°11).





Je donne du sens

En vous aidant des documents 11-12 et 13, ainsi que de l'apport théorique, démontrez que les châteaux d'Ottrott sont de parfaits exemples de châteaux du XII^e siècle. Vous organiserez votre réponse en trois parties.

- Tout d'abord, présentez le contexte géographique et chronologique : quand et où ont été construits ces châteaux ?
- Ensuite, décrivez les deux châteaux.
- Enfin, montrez que ces châteaux remplissent plusieurs fonctions (fonctions qui sont soulignées dans l'apport théorique).

a) Le contexte géographique et chronologique : quand et où ont été construits ces châteaux ?

Les deux châteaux d'Ottrott ont été construits entre le XI^e et le XIII^e siècle en haut du plateau de l'Elsberg. Le premier, le Rathsamhausen a été édifié en 1076; le second, le Lutzelbourg, en 1250.

.....

b) Description des deux châteaux.

Les deux châteaux se ressemblent puisque l'on y trouve les mêmes éléments.

Le château est entouré par un fossé. La porte d'entrée du château est étroite et donne accès à une cour. Il y a plusieurs tours dont la principale est le donjon. Au sommet de cette tour rectangulaire de 3 étages, on peut voir des créneaux qui permettent aux soldats de se protéger. Les fenêtres sont peu nombreuses et plutôt étroites. Dans le château de Rathsamhausen, on trouve une maison-tour, un bâtiment résidentiel et une cuisine......

.....

.....

.....

.....

.....

.....

.....

.....

.....

c) Montrez que ces châteaux remplissent plusieurs fonctions (ces fonctions sont soulignées dans l'apport théorique).

Ces châteaux remplissent les fonctions militaire (lieu d'habitation de soldats), politique (lieu qui permet de contrôler un territoire), résidentiel (lieu d'habitation du seigneur) et symbolique (qui permet de montrer que le seigneur a le pouvoir sur un territoire, le contrôle).

.....